

Уважаемый участник!

41008

При выполнении заданий Вам предстоит выполнить определённую работу, которую лучше организовать следующим образом:

- внимательно прочитайте задание;
- если Вы отвечаете на теоретический вопрос или решаете ситуационную задачу, обдумайте и сформулируйте конкретный ответ (ответ должен быть кратким, и его содержание следует вписать в отведённое поле; пишите чётко и разборчиво);
- будьте внимательны, тестовые задания разделены на две группы: первая группа подразумевает один правильный ответ, вторая может иметь несколько правильных ответов, определите верный ответ и обведите кружком букву (буквы), соответствующую(-ие) выбранному Вами ответу;

За каждый правильный ответ Вы можете получить определённое членами жюри количество баллов, не выше указанной максимальной оценки.

Сумма набранных баллов за все решённые вопросы в двух форматах - итог Вашей работы. Максимальное количество баллов – 100.

Время выполнения заданий 45 минут.

Желаем успеха!

100% = 40%
из 100

Тестовые задания 7-8 класс

Задания с одним правильным ответом

19

1. Какой из противогазов предназначен для школьников?

- а) ПДФ-ДШ
- б) ГП -5Ш
- в) ГП -7Ш
- г) ПДФ-Ш

2. Чем можно отравиться в лесу во время похода?

- а) ядовитыми грибами и ягодами;
- б) одуванчиком;
- в) луком медвежьим;
- г) цикорием;
- д) подорожником.

3. Возможно, ли провести заблаговременные эвакуационные мероприятия для обеспечения безопасности населения при землетрясении?

- а) да
- б) нет

- в) только при своевременном мониторинге
- г) только в условиях равнинной местности.

4. Как называется вид помощи пострадавшему, оказываемый до медицинской помощи при несчастных случаях, травмах, отравлениях и других состояниях, и заболеваниях, угрожающих жизни и здоровью пострадавшего?

- а) неотложная помощь
- б) первая помощь
- в) доврачебная помощь
- г) первая неотложная помощь

5. Что обозначает данная пиктограмма в метрополитене?

- а) запрещается прислоняться к стенам
- б) запрещается прислоняться к ограждениям
- в) запрещается стоять в проходе
- г) запрещается прислоняться к дверям



6. Определение «здоровье» согласно уставу ВОЗ:

- а) состояние полного физического, душевного и социального благополучия
- б) отсутствие болезней
- в) способность организма к преодолению физических нагрузок

7. Для обеспечения правильной рабочей позы за письменным столом высота сиденья стула должна быть равной

- а) длине голени
- б) длине голени плюс 2 см на высоту каблука
- в) длине голени минус 2 см на высоту каблука
- г) длине голени минус 10 см

8. На какое расстояние от пострадавшего желательно бросать спасательный круг?

- а) 0,2–0,4 м
- б) 0,5–1,5 м
- в) 0,7–2 м
- г) 2–2,5 м

9. Какой из костров долго горит, не требует присмотра, но требует определенного опыта при его разведении?

- а) «нодья»
- б) «таежный»
- в) «колодец»
- г) «шалаш»

10. Для первой степени термического ожога характерны следующие признаки:

- а) отёк, покраснение
- б) отёк, покраснение, появление пузырей, наполненных прозрачной жидкостью
- в) отёк, обугливание кожи с потерей чувствительности
- г) обугливание мышц и костей

Задания с несколькими правильными ответами

11. Признаками ушиба и растяжения являются:

- а) боль, нарушение функции конечности
- б) отёк и кровоизлияние
- в) боль, деформация конечности
- г) патологическая подвижность в месте травмы
- д) деформация конечности, кровоизлияние

12. Какое положение рук поможет обеспечить личную безопасность в толпе при давке?

- а) руки находятся возле бёдер
- б) руки находятся возле груди
- в) руки находятся в грудных карманах
- г) руки согнуты в кистях
- д) руки согнуты в локтях

13. Определите из приведённых ниже основные причины пожаров в жилых зданиях.

- а) нарушение правил безопасности при пользовании электробытовыми и электронагревательными приборами
- б) отсутствие первичных средств пожаротушения
- в) неосторожное обращение с пиротехническими изделиями
- г) неисправность внутренних пожарных кранов
- д) нарушение правил хранения и использования горючих и легковоспламеняющихся жидкостей
- е) беспечность и небрежность при обращении с огнем
- ж) неисправность телефонной связи
- з) неисправность системы водоснабжения

14. Какое значение имеет жёлтый мигающий сигнал светофора?

- а) разрешает движение и информирует о наличии нерегулируемого перекрёстка
- б) предупреждает об опасности
- в) запрещает движение
- г) разрешает движение
- д) разрешает движение и информирует, что время его действия истекает

15. Для приведения в действие огнетушителя ОУ необходимо ...
Выберите правильные ответы и расположите их по очередности действий.

- г, а, в, з, б
- а) направить раструб на пламя
 - б) сорвать пломбу и выдернуть чеку
 - в) прочистить раструб
 - г) нажать на рычаг
 - д) взяться за раструб рукой и придерживать его

16. Какое положение рук поможет обеспечить личную безопасность в толпе при давке?

- а) руки находятся возле бёдер
- б) руки находятся возле груди
- в) руки находятся в грудных карманах
- г) руки согнуты в кистях
- д) руки согнуты в локтях

17. Здоровье, по определению Всемирной организации здравоохранения, подразделяется на три их: составляющие. Укажите

- а) физическое и психологическое благополучие
- б) финансовое и социальное благополучие
- в) психологическое и социальное благополучие
- г) физическое и материальное благополучие
- д) материальное и духовное благополучие

18. По каким признакам днём в тихую погоду, возможно, определить мелкие места на реке?

- а) поверхность воды более светлая
- б) поверхность воды более тёмная
- в) поверхность воды имеет волнистый вид
- г) поверхность воды более ровная
- д) поверхность воды имеет тихое течение

19. Какие бывают кровотечения?

- а) паренхиматозные;
- б) артериальные;
- в) капиллярные;
- г) венозные.

20. С чем связано начало пожароопасного периода в лесах?

- а) с повышением температуры воздуха
- б) со сходом снега, высыханием лесной подстилки
- в) временем, прошедшим после последнего дождя
- г) с отсутствием осадков

Теоретические задания

Задание 1

Основным способом временной остановки артериального кровотечения является наложение кровоостанавливающего жгута.

Ниже представлены признаки, которые появляются при правильном наложении жгута и которые могут появиться, если жгут наложен неправильно.

Впишите цифры, которыми обозначены признаки, в соответствующие графы таблицы.

Признаки:

1. остановка кровотечения
2. побледнение конечности
3. отёк конечности
4. усиление кровотечения
5. отсутствие пульса на артерии ниже наложенного жгута
6. посинение кожи конечности

Жгут наложен правильно	Жгут наложен неправильно
1, 5, 4	2, 3, 6
2	2

Задание 2

Прочность льда можно определить визуально. Укажите стрелками соответствие между цветом льда и характеристикой его прочности.

Цвет льда	Прочность льда
Лёд голубого цвета	Прочность в два раза меньше относительно

<i>лед голубого цвета</i>		прочного льда 2
Лёд белого цвета		Ненадёжный 2
Лёд матово-белый		Прочный
Лёд с желтоватым оттенком		

Задание 3

Вставьте в текст «Гигиена» пропущенные термины из предложенного списка, а затем запишите получившуюся последовательность цифр выбранных ответов в приведённую ниже таблицу.

Закаливание – это 2 (А) целенаправленной 3 (Б) в результате которой 5 (В) приобретает способность успешно 4 (Г) переохлаждению. Суть 9 (Д) заключается в том, что мы постепенно и (Е) приучаем свой организм к холоду.

Перечень терминов:

- | | | |
|------------------|---------------|----------------|
| 1. тренировки | 2. система | 3. закаливания |
| 4. противостоять | 6. планомерно | 7. состояние |
| 5. организм | 10. пример | |
| 8. система | | |
| 9. занятий | | |

Задание 4

Регулировщик с помощью определённых сигналов регулирует дорожное движение.

Установите соответствие между сигналами регулировщика и их значением для водителя транспортного средства. Запишите в таблицу выбранные цифры под соответствующими буквами.

	Сигналы регулировщика		Значение для водителя транспортного средства
А	Руки вытянуты в стороны или опущены	1	Со стороны груди и спины движение всех транспортных средств запрещено
Б	Правая рука вытянута вперед	2	Движение всех транспортных средств и пешеходов запрещено во всех направлениях
В	Рука поднята вверх	3	Со стороны левого бока разрешено движение безрельсовых транспортных средств во всех направлениях

		4	Со стороны левого и правого бока разрешено движение безрельсовых транспортных средств прямо и направо
		5	Со стороны груди всем транспортным средствам разрешено движение только направо

Ответ:

А	Б	В
4 2	5 2	1 -

Уважаемый участник!

При выполнении заданий Вам предстоит выполнить определённую работу, которую лучше организовать следующим образом:

- внимательно прочитайте задание;
- если Вы отвечаете на теоретический вопрос или решаете ситуационную задачу, обдумайте и сформулируйте конкретный ответ (ответ должен быть кратким, и его содержание следует вписать в отведённое поле; пишите чётко и разборчиво);
- будьте внимательны, тестовые задания разделены на две группы: первая группа подразумевает один правильный ответ, вторая может иметь несколько правильных ответов, определите верный ответ и обведите кружком букву (буквы), соответствующую(-ие) выбранному Вами ответу;

За каждый правильный ответ Вы можете получить определённое членами жюри количество баллов, не выше указанной максимальной оценки.

Сумма набранных баллов за все решённые вопросы в двух форматах - итог Вашей работы. Максимальное количество баллов – 112.

Время выполнения заданий 45 минут.

Желаем успеха!

Тестовые задания 9 класс
Задания с одним ответом

12

- 2 +
1. Вам кажется, что кто-то идет за вами «по пятам». Как вы поступите?
 - а) Забегу в подъезд жилого дома и буду стучать в любую дверь;
 - б) Перейду несколько раз улицу и проверю свою догадку; убедившись в своей правоте, побегу в людное место;
 - в) Остановлюсь и выясню причину преследования.

 2. Что из перечисленного обеспечивает наибольшую защиту органов дыхания, лица и глаз?
 - а) ПТМ-1
 - б) ПДФ-Ш
 - в) ПТМ-2
 - г) Р-2

 3. РСЧС – это:
 - а) Министерство чрезвычайных ситуаций
 - б) Российская система чрезвычайных ситуаций
 - в) Единая государственная система предупреждения и ликвидации ЧС

4. Какое из нижеперечисленных ранений может привести к опасной для жизни кровопотере в течение 2–4 минут при прочих равных условиях?

- 2 +
- а) повреждение артерии бедра
 - б) повреждение артерии предплечья
 - в) повреждение артерии нижней трети голени
 - г) повреждение артерий кисти

5. Крайне необычная по сложности опасная ситуация, на грани несчастного случая это:

-
- а) Опасность;
 - б) Опасное явление;
 - в) Экстремальная ситуация.

6. Если в квартире вы одни и услышали, что Вашу входную дверь пытаются взломать, то нужно...

- 2 +
- а) Заблокировать дверь, позвонить в милицию, в окно сообщить об этом соседям или прохожим
 - б) Открыть дверь со словами: "Видимо вы ошиблись адресом, здесь живу я"
 - в) Спрятаться в ванной, туалете или кладовой

7. По каким ориентирам можно определить стороны света:

- 2 +
- а) кустарникам и сухой траве, по течению рек, по колеям;
 - б) стволам и коре деревьев, склонам, муравейникам;
 - в) полыньям на реках, направлению спиленных деревьев.

8. Кто имеет права на необходимую самооборону?

- 2 +
- а) лица, достигшие 18-летнего возраста
 - б) лица, достигшие 16-летнего возраста
 - в) лица, имеющие специальную подготовку
 - г) все лица

9. Какое мероприятие первой помощи необходимо выполнить после установления отсутствия признаков жизни у пострадавшего?

-
- а) 30 давлений руками на грудину пострадавшего
 - б) 2 вдоха искусственного дыхания
 - в) Вызвать скорую медицинскую помощь
 - г) Обеспечить безопасные условия для оказания первой помощи

10. Среди наиболее опасных природных явлений биологического характера, оказывающих существенное влияние на безопасность жизнедеятельности человека, выделяют (отметьте неправильный вариант):

-
- а) природные пожары;
 - б) эпидемии;
 - в) эпизоотии;
 - г) катастрофы.

Задания с несколькими правильными ответами

11. С каким интервалом и в течение скольких минут передается информационное сообщение о ЧС?

- 2 —
- а) с интервалом 30 секунд
 - б) с интервалом 50 секунд
 - в) в течение 5 минут
 - г) в течение 10 минут
 - д) в течение 8 минут

12. К стихийным бедствиям не относятся:

- 4 +
- | | |
|-----------------------------------------------|-------------------|
| <input checked="" type="radio"/> А. Аварии | Б. Сели |
| <input checked="" type="radio"/> В. Оползни | Г. Снежные лавины |
| <input checked="" type="radio"/> Д. Терроризм | Е. Эпизоотии |

13. «Вредные привычки»:

- 4 +
- а) курение
 - б) пение
 - в) чтение
 - г) алкоголизм

14. При остановке бедренного артериального кровотечения необходимо:

- 2 —
- а) Прижать кулаком бедренную артерию в точке ее пережатия
 - б) Наложить давящую повязку
 - в) Зафиксировать три сустава
 - г) Наложить жгут через опорный предмет

15. Что из указанного относится к простейшим укрытиям?

-
- а) горная выработка
 - б) перекрытая щель
 - в) землянка
 - г) ПРУ
 - д) первый этаж зданий

16. Какие ситуации относятся к чрезвычайным ситуациям техногенного характера?

- 4 +
- | | |
|---------------------------------------------|---------------------------------------------|
| А) Терроризм; | <input checked="" type="radio"/> Б) Пожары; |
| В) Землетрясение; | Г) Наркомания; |
| <input checked="" type="radio"/> Д) Взрывы; | Е) Лесные пожары |

17. К соучастникам преступления относят:

-
- а) Родителей или супруга (супругу) преступника
 - б) Подстрекателя
 - в) Исполнителя преступления
 - г) Свидетеля преступления

18. Закаливанию организма способствуют:

- а) правильный режим дня и правильное питание;
- б) соответствие микроклимата и индивидуального здоровья;
- в) факторы внешней среды: солнце – воздух – вода.

19. Какие средства имеются в аптечке первой помощи (автомобильной) для остановки (временной остановки) артериального кровотечения?

- а) бинт эластичный
- б) кровоостанавливающий жгут
- в) бинты марлевые
- г) лейкопластырь
- д) перекись водорода, 0,5% раствор

20. При захвате террористами общественного здания, в котором вы находились вместе с другими гражданами, необходимо соблюдать правила безопасного поведения. Какие из них являются ошибочными?



- а) Попробуйте самостоятельно обезвредить террористов
- б) Не вступайте в споры, выполняйте все требования террористов
- в) Старайтесь не привлекать к себе внимания, спрячьтесь куда-нибудь
- г) Если освобождают заложников, женщин и детей, постарайтесь попасть в их число
- д) Воспользуйтесь мобильным телефоном, чтобы сообщить о своем местонахождении родственникам и полиции.




Теоретические задания

Задание 1

10

Впишите в таблицу название вида костра.

<p>2</p>  <p>Тип костра 1</p>	<p>Колодец</p>
<p>2</p>  <p>Тип костра 2</p>	<p>Ножка</p>

2	 Тип костра 3	Толмизинский
2	 Тип костра 4	Звездный
2	 Тип костра 5	Шалаши

Оценка задания. Максимальная оценка за правильно выполненное задание – 10 баллов, при этом:

- за каждое правильно указанное название начисляется по 2 балла;
- при отсутствии правильных ответов баллы не начисляются.

Задание 2

- Рана – это нарушение анатомической целостности покровных или внутренних тканей на всю их толщину, а иногда также и внутренних органов, вызванное механическим воздействием. Отличительные признаки: боль, кровотечение, зияние. Раны классифицируются в зависимости от условий возникновения. Используя приведенные характеристики, впишите в таблицу названия некоторых из них.
- **Вариант ответа:**

№ п/п	Характеристика	Название раны
2 1.	Возникшие во время хирургической операции	Операционные

2.	Нанесённые скользящим движением тонкого острого предмета	резаные 2
3.	Нанесённые предметом с небольшим поперечным сечением	колотые 2
4.	Нанесённые зубами животных или человека	укусы укушенные 2
5.	Характеризуются раздавливанием и разрывом тканей	Размозженные 2
6.	Возникшие вследствие перерастяжения тканей	Растяжение тканей Рвотные 2
7.	От огнестрельного оружия или осколков боеприпасов взрывного действия	огнестрельные ранения 2
8.	Содержащие яд, попавший в рану в результате укуса животных или человеческой деятельности	Отравленные 2
9.	От удара тупым предметом с одновременным ушибом окружающих тканей	Ушибленные Тематома 2
10.	Нанесённые острыми предметами с режущими краями	жесткое ранение Колото-резаные 2

- **Оценка задания.** Максимальная оценка за правильно выполненное задание – **20 баллов**, при этом:
 - - за каждый правильный ответ начисляется по 2 балла;
 - - при отсутствии правильных ответов баллы не начисляются.

ЗАДАНИЕ 3

Вписать какие возможные заболевания в туризме в указанных видах опасностей

Виды опасностей	Типы заболеваний
Неблагоприятные метеорологические условия	Простудные заболевания 2
Высокогорье	Высотная болезнь 2
Яркий солнечный свет	Воспаление роговицы 2
Отличный от привычного	Гастрит 2

10

режим дня, питания	гастрит
Длительное физическое напряжение, трудности при передвижении по пересечённой местности с тяжёлым рюкзаком	Гиподинамия Иссух ¹ 16т
Укусы насекомых	мешковит энцефалит 2

Максимальная оценка за правильно выполненное задание – 12 баллов, за каждый полный правильный ответ по 2 баллу

ЗАДАНИЕ 4

В жилом доме возник пожар. На Ваших глазах из очага пожара выбежал человек в горящей одежде. Горит рубашка в области спины. Как оказать первую помощь пострадавшему?

Заполните таблицу, отмечая знаком «+» мероприятия, которые необходимо выполнить для оказания первой помощи, и знаком «-» – мероприятия, которые запрещены, если у пострадавшего в месте ожога отмечаются целые и лопнувшие пузыри.

Необходимо выполнить, отметить «+»	Мероприятия первой помощи	Нельзя делать, отметить «-»
1 +	1. Устранить действие повреждающего агента (потушить одежду),	
0	2. Уложить пострадавшего на живот	-
1	3. Убрать с места повреждения пригоревшую к тканям одежду	-
1	4. Вскрыть образовавшиеся пузыри	-
1 +	5. Наложить чистую сухую ткань на место ожога	
1	6. Приложить холодную мокрую ткань на место ожога	-
1 +	7. Приложить холод поверх ткани (повязки)	
1 +	8. Дать обильное питьё	
1	9. Смазать место ожога маслом (жиром)	-
1 +	10. Вызвать скорую медицинскую	

+	помощь	
---	--------	--

Оценка задания. Максимальная оценка за правильно выполненное задание – **10 баллов**, при этом:

- за каждую верную пометку к мероприятию начисляется по **1 баллу**;
- при отсутствии правильных ответов баллы не начисляются.

81

Уважаемый участник!

При выполнении заданий Вам предстоит выполнить определённую работу, которую лучше организовать следующим образом:

- внимательно прочитайте задание;
- если Вы отвечаете на теоретический вопрос или решаете ситуационную задачу, обдумайте и сформулируйте конкретный ответ (ответ должен быть кратким, и его содержание следует вписать в отведённое поле; пишите чётко и разборчиво);
- будьте внимательны, тестовые задания разделены на две группы: первая группа подразумевает один правильный ответ, вторая может иметь несколько правильных ответов, определите верный ответ и обведите кружком букву (буквы), соответствующую(-ие) выбранному Вами ответу;

За каждый правильный ответ Вы можете получить определённое членами жюри количество баллов, не выше указанной максимальной оценки.

Сумма набранных баллов за все решённые вопросы в двух форматах - итог Вашей работы. Максимальное количество баллов – 100.

Время выполнения заданий 45 минут.

Желаем успеха!

Тестовые задания 10-11 классы

Тестовые задания с одним ответом

1. При угрозе ножом или пистолетом следует:

- 2
- а) Выполнять требования
 - б) Проявить агрессию
 - в) Вступить в борьбу
 - г) Начать переговоры

2. Какой приём первой помощи должен быть выполнен в первую очередь у пострадавшего с открытым переломом бедра с повреждением бедренной артерии?

- 0
- а) наложение стерильной повязки
 - б) иммобилизация конечности
 - в) обезболивание (приём обезболивающих средств при отсутствии лекарственной аллергии)
 - г) наложение кровоостанавливающего жгута

3. Ведение гражданской обороны на территории РФ или в отдельных ее местностях начинается:
- а) С началом объявления о мобилизации взрослого населения;
 - б) С момента объявления или введения президентом РФ чрезвычайного положения на территории РФ или в отдельных ее местностях;
 - в) С момента объявления состояния войны, фактического начала военных действий или введения президентом РФ военного положения на территории РФ и в отдельных ее местностях
4. Какое расстояние рекомендуется выбирать до конечной точки маршрута при организации однодневного турпохода?
- а) не более 10 км в одну сторону
 - б) не более 15 км в одну сторону
 - в) не более 12 км в одну сторону
 - г) не более 13 км в одну сторону
5. В соответствии с УК РФ преступлением признается:
- а) кража в особо крупном размере;
 - б) Действие, сознательно нарушающее требования Конституции РФ, законодательных и нормативно-правовых актов;
 - в) Общественно опасное деяние, запрещенное Уголовным кодексом под угрозой наказания.
6. В случае отсутствия сознания (дыхание присутствует) пострадавшего необходимо перевести в:
- а) Устойчивое боковое положение с подстраховкой шейного отдела позвоночника
 - б) Устойчивое боковое положение с приподнятыми нижними конечностями
 - в) Положение «на спине» с приподнятыми нижними конечностями
 - г) Положение «на спине» с возвышенной верхней частью туловища
7. Где безопаснее ожидать помощи, если вы упали на путь в метрополитене, не получили при падении серьёзных травм и можете самостоятельно двигаться?
- а) под краем платформы, с которой упали
 - б) не доходя до чёрно-белой рейки у начала платформы по ходу поезда
 - в) пройдя за чёрно-белую рейку у начала платформы по ходу поезда
 - г) за чёрно-белой рейкой в конце платформы по ходу поезда
8. Какой приём первой помощи должен быть выполнен в первую очередь у пострадавшего с открытым переломом бедра с повреждением бедренной артерии?
- а) Наложение стерильной повязки
 - б) Иммобилизация конечности
 - в) Обезболивание (приём обезболивающих средств при отсутствии лекарственной аллергии)
 - г) Наложение кровоостанавливающего жгута

9. Какой уровень террористической опасности, устанавливаемый в РФ, лишний?

- а) низкий
- б) повышенный
- в) критический
- г) высокий

10. С биологической точки зрения иммунитет – это:

- а) Функциональное состояние организма под воздействием инфекционного заболевания;
- б) Способ защиты внутреннего постоянства организма от живых тел или веществ, несущих в себе признаки генетически чужеродной информации;
- в) Механизм выработки специальных веществ, противодействующих попаданию инфекции в организм человека.

Тестовые задания с несколькими вариантами ответов

11. Какие из перечисленных ручных осколочных гранат стоят на вооружении ВС РФ?

- а) М 16
- б) МК 26
- в) Ф1
- г) Л2А2
- д) РГО

12. Верховые пожары подразделяются на

- а) Внезапные
- б) Беглые
- в) Устойчивые
- г) Кратковременные
- д) Плавные

13. Кто из нижеперечисленных лиц обязан оказать первую помощь пострадавшему?

- а) человек, оказавшийся рядом
- б) водитель автомобиля
- в) полицейский
- г) пожарный
- д) кассир в магазине

14. В каких из растений происходящие изменения могут заблаговременно предупредить о дожде?

- а) в акации
- б) в конском каштане
- в) в липе
- г) в дубе
- д) в сосне

15. Основу сил МЧС России составляют:

- а) Поисково - спасательные службы
- б) Спасательные воинские формирования
- 2 в) Войска местной обороны
- г) Внутренние войска МВД России, привлекаемые для ликвидации ЧС.

16. Определите ветровой режим и признак ветра силой в 6 баллов по шкале Бофорта.

- а) ветровой режим «Свежий»
- б) признак «Ветер поднимает пыль и бумажки»
- 0 в) ветровой режим «Умеренный»
- г) признак «Качаются толстые сучья деревьев»
- д) ветровой режим «Сильный»

17. Какие из боевых отравляющих веществ обладают нервнопаралитическим действием?

- а) зоман
- б) иприт
- 2 в) хлорпикрин
- г) люизит
- д) ви-экс

18. Какие действия запрещается выполнять при наличии у пострадавшего термического ожога с повреждением целостности кожи?

- а) накрывать место повреждения чистой салфеткой
- 0 б) прикладывать поверх салфетки холод
- 2 в) погружать место повреждения в холодную воду
- г) отрывать прилипшую к ране одежду
- д) давать тёплое питьё

19. В чём заключаются главные преимущества изолирующего противогаза по сравнению с фильтрующим?

- 0 а) Его применяют в условиях недостатка в атмосфере кислорода
- 2 б) Только он защищают от удушающих газов
- в) Его применяют при неизвестном составе загрязняющих воздух примесей
- г) Он более компактен

20. Какие из нижеперечисленных витаминов относятся к жирорастворимым?

- а) витамин А
- б) витамин Д
- 2 в) витамин С
- г) витамин В6
- д) витамин В1






Теоретические олимпиадные задания 10-11 класс

60

Задание 1

С целью облегчения поиска людей, попавших в опасную ситуацию целесообразно применять Международную кодовую таблицу воздушных сигналов «Земля-Воздух». Её знаки могут быть выложены с помощью подручных средств (снаряжение, одежда, камни, деревья), непосредственно людьми, которые должны лечь на землю, снег, лёд, или вытоптаны на снегу.

Установите соответствие между сигналами и их значениями. Запишите в таблицу выбранные цифры под соответствующими буквами.

	Сигналы	Значение
А		1 Я двигаюсь в этом направлении
Б		2 Всё в порядке
В		3 Требуется карта и компас
Г		4 Разделились на две группы, каждая следует в указанном направлении.
Д		5 Нужен врач – серьёзные телесные повреждения

Ответ

А	Б	В	Г	Д
Х 2	4 2	5	1 2	3 2

Задание 1

Перечислите поражающие факторы при ядерном взрыве:

Таблица ответов

10

1	Ударная волна	2
2	Световое излучение	?
3	проникающая радиация	?
4	радиоактивное заражение.	?
5	электромагнитный импульс.	?

Задание 4

Эмблема, какой организации изображена на рисунке? Дайте описание этой организации (цели организации, структура, местонахождение).



100



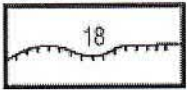


На рисунке изображена эмблема Всемирной организации здравоохранения. Цель организации — «Восстановить во всем народам максимально возможный уровень здоровья». ВОЗ — специализированное учреждение, ответственное за международное здравоохранение. Штаб-квартира в Женеве, Швейцария

Задание 3

Топографические знаки – символические графические обозначения, применяемые на топографических картах для изображения объектов местности и их качественных и количественных характеристик.

108

Соедините стрелками изображение топографического знака и его обозначение.

		Колодцы	2
		Проходимые болота	2
		Непроходимые болота	2
		Обрывы	2
		Источники	2